

2025 年度全国通訳案内士試験

試験問題

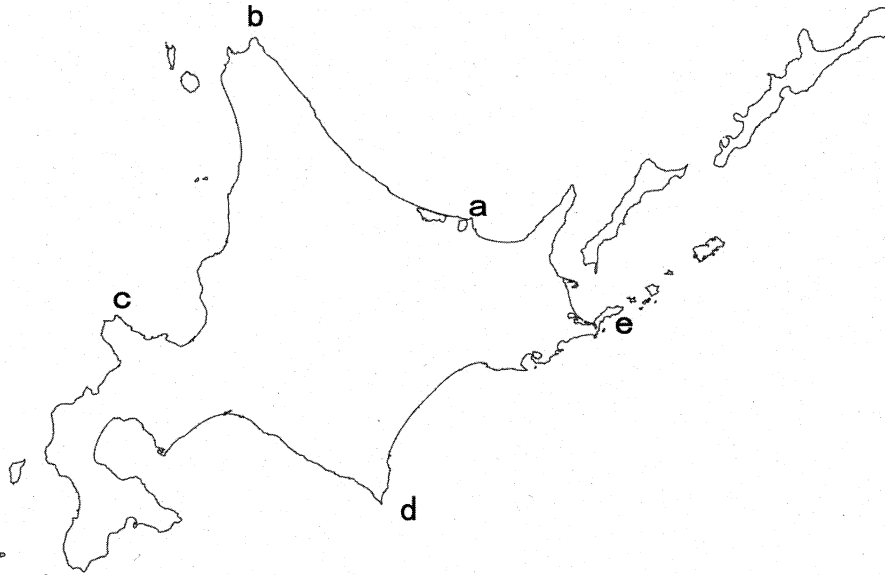
日本地理

本文 6 ページ

各問題に対する解答はマークシートの解答欄にマークすること。例えば と表示のある問題に対して④と解答する場合は、マークシート の解答欄の④にマークすること。

1.

北海道の5つの岬を示した地図をみて、以下の問いに答えなさい。



問1 オホーツク海に面するaの能取岬は、八角形で白黒に塗られた灯台が目印になっている。西側の能取湖は、アッケシソウの群生地として知られ、9月には一面が赤色に紅葉する。1月になると、岬の眼下にひろがる景色を見学にくる人も多い。冬季に能取岬から見学できる観光資源の名前として正しいものはどれか、次の①～④から一つ選びなさい。(3点)

- ① 氷の彫刻 ② 昆布干し ③ タンチョウの群れ ④ 流氷

問2 地図中のbの宗谷岬へは、札幌から車もしくは鉄道で6時間ほどかかる。鉄道の場合、札幌駅から特急列車を乗り継いで稚内駅まで行くことになる。稚内港からは、成層火山で有名な島をめぐるフェリーを利用する観光客も多い。この島の名前として正しいものはどれか、次の①～④から一つ選びなさい。(3点)

- ① 奥尻島 ② 利尻島 ③ 礼文島 ④ 天売島

問3 地図中のcの積丹岬へは、札幌から車で2時間ほどで行くことができる。経路の途中にある地区では、ウイスキー工場を見学することができる。この地区の名前として正しいものはどれか、次の①～④から一つ選びなさい。(3点)

- ① 富良野市 ② 旭川市 ③ 小樽市 ④ 余市町

問4 太平洋に面するdの襟裳岬は、高い山々が連なる地域の最南端に位置している。山々のふもとの町は、競馬で活躍する軽種馬の産地として知られている。この高い山々が連なる地域の名称として正しいものはどれか、次の①～④から一つ選びなさい。(3点)

- ① 天塩山地 ② 石狩山地 ③ 日高山脈 ④ 夕張山地

問5 地図中のeの納沙布岬へは、釧路市から根室市を経由して行くことができる。両市の間にある根釧台地は、北海道庁と北海道開発局による大規模な開発がなされ、産業振興が図られた。この地域の産業として最も適当なものはどれか、次の①～④から一つ選びなさい。(4点)

- ① 稲作 ② 畑作 ③ 酪農 ④ 発電業

5

2.

ドイツ企業の日本支店に勤務しているマイヤー氏とその妻は、東京駅から北陸新幹線に乗って、北陸各地の産業観光施設を訪問する計画を立てた。出発の直前にドイツから大学生のロルフが加わり、3人で出かけることになった。

羽田空港にロルフを迎えに行ったマイヤー夫妻は、大きなスノーボードをかかえている姿に驚いた。ロルフに旅行の目的を聞くと、北陸新幹線で(a)まで行き、そこからバスで白馬のスキー場に行くのだという。(a)では、似たようなスノーボードをかかえた外国人が多く降りていった。

日本海がみえてからしばらくした後に、マイヤー夫妻は、(b)で下車した。(b)のある市は、鋳物の産地として知られ、マイヤー夫妻も鋳物製作の体験をした。その後、この日の宿泊先のある金沢駅に向かった。

翌日マイヤー夫妻は、金沢市内で金箔を製造する企業を訪問し、梅皿に金箔を貼る体験を味わった。その後、加賀の伝統工芸である(c)を展示する施設を見学し、近くの温泉旅館に宿泊した。

次の日に夫妻は、2024年に北陸新幹線が延伸した福井駅で下車し、並行在来線に乗り換え、めがねフレームの産地として知られる(d)を訪れた。工房で工程を見学するとともに、自分の好みにあっためがねフレームの製作を体験した。

その後、武生駅に向かい、タクシーで1500年の歴史と技術を誇る(e)の産地である五箇地区を訪ね、(e)製作を体験した。満足した夫妻は、越前たけふ駅から北陸新幹線の終着駅である敦賀駅に向かった。

問1 空欄aに入る駅名として最も適当なものはどれか、次の①～④から一つ選びなさい。(3点)

- ① 高崎駅 ② 軽井沢駅 ③ 上田駅 ④ 長野駅

6

問2 空欄bに入る駅名として正しいものはどれか、次の①～④から一つ選びなさい。(3点)

- ① 糸魚川駅 ② 黒部・宇奈月温泉駅 ③ 富山駅 ④ 新高岡駅

7

問3 空欄cに入る焼物として正しいものはどれか、次の①～④から一つ選びなさい。(3点)

- ① 益子焼 ② 九谷焼 ③ 織部焼 ④ 常滑焼

8

問4 空欄dに入る都市名として正しいものはどれか、次の①～④から一つ選びなさい。(4点)

- ① 福井市 ② 坂井市 ③ 鯖江市 ④ 越前市

9

問5 空欄eに入る伝統工芸品の名称として正しいものはどれか、次の①～④から一つ選びなさい。(4点)

- ① 漆器 ② 和紙 ③ 打刃物 ④ たんす

10

3.

次の表は、日本の代表的な果物・野菜について、都道府県別収穫量の上位3都道府県を示したものである。この表をみて、以下の問いに答えなさい。

表 収穫量の上位3都道府県

果物・野菜	第1位	第2位	第3位
ぶどう	(a)	長野県	岡山県
もも	(a)	福島県	長野県
いちご	(b)	福岡県	熊本県
みかん	和歌山県	愛媛県	静岡県

出典：農林水産省「作物統計調査」2023 年による。

問1 (a) は、ぶどう、ももの収穫量が全国1位で、「フルーツ王国」とよばれている。この都道府県の名前として正しいものはどれか、次の①～④から一つ選びなさい。(3点)

- ① 北海道 ② 山形県 ③ 栃木県 ④ 山梨県

11

問2 いちごの収穫量全国1位は (b) である。(b) では最近、いちご狩りを楽しむ外国人も増えている。この県の名前として正しいものはどれか、次の①～④から一つ選びなさい。(3点)

- ① 愛知県 ② 佐賀県 ③ 栃木県 ④ 長崎県

12

問3 みかんの収穫量全国3位は静岡県であるが、静岡県の主要都市の三ヶ日みかんがブランドになっている。この市では、二輪車や楽器の生産など製造業も盛んである。この都市の名前として正しいものはどれか、次の①～④から一つ選びなさい。(4点)

- ① 熱海市 ② 磐田市 ③ 静岡市 ④ 浜松市

13

4.

日本の大都市では地下鉄が発達しているが、多くの外国人旅行者も地下鉄を利用している。以下の文章は、外国人旅行者の地下鉄での訪問先について述べたものである。これについて以下の問いに答えなさい。

東京を訪れたA夫妻は、東京駅から地下鉄丸ノ内線に乗車し、子どもの留学先として考えている東京大学を訪問した。その後、丸ノ内線沿線にある自然豊かな公園を訪れ、満開の桜を堪能した。再び丸ノ内線の駅に戻り、超高層ビルが林立する地区にあるホテルに向かった。

東京を訪れたBさんは、地下鉄日比谷線の神谷町駅で下車して、久しぶりに東京タワーに登る予定にしていた。地上に出ると、再開発地区に目を奪われ、多様な国籍の人々が行き来しているのに驚いた。日本一の高さを誇る超高層ビル、ホテルと居住棟に加えて、大学の予防医療センターなどがあり、東京のランドマークがまたひとつ増えた感じがした。

問1 A夫妻が移動した経路として正しいものはどれか、次の①～④から一つ選びなさい。(4点)

- ① 御茶ノ水駅→外苑前駅→渋谷駅 ② 後樂園駅→上野駅→池袋駅
③ 本郷三丁目駅→新宿御苑前駅→新宿駅 ④ 湯島駅→二重橋前駅→赤坂駅

14

問2 Bさんが訪れた再開発ビル群の名称として正しいものはどれか、次の①～④から一つ選びなさい。(3点)

- ① アークヒルズ ② 六本木ヒルズ ③ 麻布台ヒルズ ④ 虎ノ門ヒルズ


15

5.

7世紀から8世紀にかけて日本の都として栄えた奈良県には、数多くの寺院が存続している。世界遺産「古都奈良の文化財」に含まれる東大寺や(a)興福寺はその代表例である。東大寺の旧境内にある正倉院には、中国をはじめインドやヨーロッパなどに起源を有する宝物が納められてきたため、正倉院は(b)の終着点とも呼ばれる。

奈良県はその歴史と自然環境から独特の産物を生み出してきた。例えば、主要な寺院は広大な伽藍(がらん)を維持するために、境内で(c)を造り、販売してきた。その副産物を用いて造られたのが奈良漬けである。また、奈良盆地では溜め池や水田が広がっていたが、明治維新後に食禄を失った大和郡山の武士がこれらを活かして(d)を生産するようになり、一大生産地となった。

問1 下線部 a の説明文とその地図中の位置の組み合わせとして正しいものはどれか、次の①～④から一つ選びなさい。(4点)



A 藤原鎌足が建立したものを藤原不比等が現在地に移し、藤原氏の氏寺として寺勢を拡大した。

B 蘇我馬子が建立した日本最古の本格的仏教寺院で、本尊の釈迦如来坐像も日本最古の仏像とされる。

- ① A・ア ② A・イ ③ B・ア ④ B・イ

16

問2 空欄 b の用語として正しいものはどれか、次の①～④から一つ選びなさい。

(3点)

- ① 琥珀の道 ② 西海道 ③ 山陽道 ④ シルクロード

17

問3 空欄 c の用語として正しいものはどれか、次の①～④から一つ選びなさい。

(3点)

- ① 酒 ② 塩 ③ 糠(ぬか) ④ 味噌

18

問4 空欄 d の用語として正しいものはどれか、次の①～④から一つ選びなさい。

(3点)

- ① 鰻 ② 金魚 ③ 淡水真珠 ④ ニジマス

19

6.

岡山市北西部から総社市にかけては、古代には国府が置かれ、この地域の中心地であった。現在では吉備路自転車道が整備され、その道中にある (a) は奈良時代に建立された寺院に起源を有し、江戸時代に再建された五重塔が田園風景の中にたたずんでいる。また、(b) 中国山地には日本刀を作るのに適した良質な原料と、刀鍛冶の鍛造に必要な燃料が豊富に存在した。そのため、平安時代中期から日本刀が作られ、戦国時代にかけて特に長船がその生産地として著名であった。江戸時代には岡山が岡山藩の城下町として栄え、2代目藩主によって大名庭園の (c) が築庭された。一方、備中松山城は、盆地特有の気温の寒暖差で発生する (d) の影響によって、「天空の城」とも称される。

問1 空欄 a の用語として正しいものはどれか、次の①～④から一つ選びなさい。(3点)

- ① 西大寺 ② 三佛寺 ③ 備中国分寺 ④ 頼久寺

20

問2 下線部 b の原料と燃料の組み合わせとして正しいものはどれか、次の①～④から一つ選びなさい。(4点)

- ① 砂鉄－赤松 ② 砂鉄－石炭 ③ 鉄鉱石－赤松 ④ 鉄鉱石－石炭

21

問3 空欄 c の用語として正しいものはどれか、次の①～④から一つ選びなさい。(3点)

- ① 偕楽園 ② 兼六園 ③ 後楽園 ④ 縮景園

22

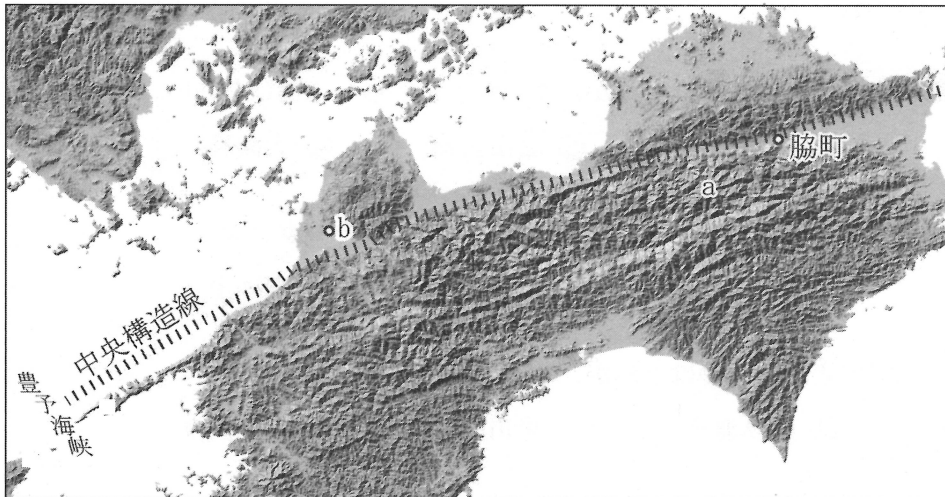
問4 空欄 d の用語として正しいものはどれか、次の①～④から一つ選びなさい。(3点)

- ① 雲海 ② 煙霧 ③ 積乱雲 ④ 吹雪

23

7.

四国北部を示した地図をみて、以下の問いに答えなさい。



問1 地図中に破線で記された断層帯である中央構造線に沿って直線的に流れ、中・下流部で徳島平野を形成する河川の名称として正しいものはどれか。次の①～④から一つ選びなさい。(3点)

- ① 仁淀川 ② 日高川 ③ 大和川 ④ 吉野川

24

問2 地図中の脇町は、江戸時代から明治期にかけての徳島平野における特産物の集散地として栄え、「うだつ」を上げた町屋が数多く残り、重要伝統的建造物群保存地区となっている。この特産物の名称として正しいものはどれか、次の①～④から一つ選びなさい。(4点)

- ① 藍 ② 漆 ③ 塩 ④ 銅

25

問3 中央構造線の南側は「外帯」と呼ばれ、特に地図中の a の地域は標高1000mを超える山々と渓谷が連なる。その山腹斜面の「平家の隠れ里」として知られる集落や、植物を編み込んで作られた吊り橋などが観光対象となっており、インバウンド客も多く訪れる。この a の地域の名称として正しいものはどれか、次の①～④から一つ選びなさい。(4点)

- ① 祖谷地方 ② 久万高原 ③ 五家荘 ④ 米良荘

26

問4 地図中の b は中央構造線断層帯の裂け目から湧出するとされる温泉地であり、古くは万葉集にも詠まれ、明治期には夏目漱石の小説にも登場した。この温泉地の名称として正しいものはどれか、次の①～④から一つ選びなさい。(3点)

- ① 皆生温泉 ② 道後温泉 ③ 鳴門温泉 ④ 温泉津温泉

27

8.

九州の中央部には、世界有数のカルデラとその中心部に複数の中央火口丘を有する阿蘇山がある。阿蘇山の外輪山の北部に位置する展望台である (a) からは、カルデラ壁や中央火口丘群を一望のもとに見渡すことができる。中央火口丘と外輪山の斜面には、牛馬の飼料や住居の屋根材などのために使用されてきた (b) が広がり、早春の火入れによって独特の景観が維持されてきた。阿蘇山の外輪山の北方にある (c) は、自然環境を感じさせる雑木の植栽や、入湯手形、手彫りの洞窟風呂などによって全国的知名度を持つ温泉地となっている。

問1 空欄 a の用語として正しいものはどれか、次の①～④から一つ選びなさい。(3点)

- ① 稲佐山 ② 掬星台 ③ 城山公園 ④ 大観峰

28

問2 空欄 b の用語として正しいものはどれか、次の①～④から一つ選びなさい。(4点)

- ① シラス ② 森林 ③ 草原 ④ 真砂土

29

問3 空欄 c の用語として正しいものはどれか、次の①～④から一つ選びなさい。(3点)

- ① 嬉野温泉 ② 霧島温泉 ③ 黒川温泉 ④ 玉名温泉

30

<日本地理> マークシート 解答および配点 (2025)

解答番号	解答	配点	問題番号
1	4	3	1
2	2	3	
3	4	3	
4	3	3	
5	3	4	
6	4	3	2
7	4	3	
8	2	3	
9	3	4	
10	2	4	
11	4	3	3
12	3	3	
13	4	4	
14	3	4	4
15	3	3	
16	1	4	5
17	4	3	
18	1	3	
19	2	3	
20	3	3	6
21	1	4	
22	3	3	
23	1	3	
24	4	3	7
25	1	4	
26	1	4	
27	2	3	
28	4	3	8
29	3	4	
30	3	3	