

平成28年度通訳案内士試験

試験問題

日本地理

本文 8 ページ

日本地理—1 (解答番号 ~) 平成 28 年度

各問題に対する解答は配付したマークシートの解答欄にマークすること。例えば と表示のある問題に対して⑤と解答する場合は、解答番号 の解答欄の⑤にマークすること。

1



「広域観光周遊ルート」に認定された「アジアの宝 悠久の自然美への道 ひがし北・海・道」は、道東地方の富良野地区、十勝川地区、知床地区、釧路地区等を周遊する観光ルートである。

問 1 「ひがし北・海・道」エリアのゲートウェイ空港として、このエリアに含まれない空港はどれか、次の①～④から選びなさい。(2点)

- ① 稚内空港 ② 紋別空港 ③ 女満別空港 ④ 中標津空港

問 2 「ひがし北・海・道」エリアには、北海道の代表的な美しい 8 つのガーデンが集中していることから「北海道ガーデン街道」と呼ばれている街道がある。この街道は、大雪～～十勝を結び全長約 250 km の街道となっている。には「風のガーデン」があるが、そこはどれか、次の①～④から選びなさい。(3点)

- ① 恵庭 ② トマム ③ 富良野 ④ 美幌

問 3 「ひがし北・海・道」エリアには、阿寒国立公園があるが、この公園内にある湖はどれか、次の①～④から選びなさい。(2点)

- ① サロマ湖 ② 屈斜路湖 ③ 十和田湖 ④ 支笏湖

問 4 「ひがし北・海・道」エリアには、石狩川沿いに 24 km にわたって続く溪谷があり、断崖絶壁に流れ落ちる美しい銀河・流星の滝が見られる。この溪谷の名称はどれか、次の①～④から選びなさい。(3点)

- ① 天人峡 ② ふきだし公園 ③ 錦仙峡 ④ 層雲峡

2

函館は 1859 年、横浜・長崎とともに日本最初の国際貿易港として開港し、異国の文化が上陸したところである。

赤レンガ倉庫群のある a ベイエリア、旧函館区公会堂や函館ハリストス正教会など異国情緒が色濃く残るレトロな街並みの b 元町エリア、戊辰戦争の最後の舞台となった c エリア、350 余年の歴史を持ち水平線に並ぶ漁火を数えながらお湯に浸かれる湯の川エリアがある。

本年 3 月 26 日には北海道新幹線が開業し、トラピスト修道院へ続くポプラ並木をイメージした大きな柱が特徴の新函館北斗駅は、北海道の新たな玄関口となっている。



問 1 下線部 a には、北洋漁業の基礎を築き、函館の発展に貢献した の、北前船にまつわる品々を中心に展示した資料館がある。「箱館発展の恩人」と言われる の人物は誰か、次の①～④から選びなさい。(3点)

- ① 榎本武揚 ② 坂本龍馬 ③ 高田屋嘉兵衛 ④ 土方歳三

〈受験者本人の参考用としての個人使用以外の行為を禁ずる。複製・転売を禁ずる。〉


問 2 下線部 **b** には、眺望がミシュラン・グリーンガイド・ジャポンに三つ星として掲載された b があり、ここからの夜景は特に有名である。b に入る語句として最も適切なものはどれか、次の①～④から選びなさい。(2点)

- ① 恵山 ② 五稜郭タワー ③ 立待岬 ④ 函館山 6

問 3 空欄 **c** は、北方防備の目的で作られた日本初のフランス築城方式の星型要塞であり、戊辰戦争の最後の舞台となった。最も適切なものはどれか、次の①～④から選びなさい。(2点)

- ① 香雪園 ② 五稜郭 ③ 千畳敷 ④ 函館公園 7

3



宮城県仙台は、街の中央を a が流れ、都市の洗練さと緑豊かな杜の都としての二つの表情を持っている。
 それまで「千代」と書いて「せんだい」と読ませていたものを、仙台藩祖伊達政宗が「仙台」という名前をつけた。市内には仙台藩祖の霊屋（墓所） b がある。
 伊達藩祖は美食家としても知られ「伊達美味（だてうま）」と呼ばれる **c** 定番人気グルメは有名である。

問 1 空欄 **a** は、100 万都市仙台の街の中央を流れる「青葉城恋唄」にもうたわれた川である。最も適切なものはどれか、次の①～④から選びなさい。(2点)

- ① 名取川 ② 七北田川 ③ 鳴瀬川 ④ 広瀬川 8

問 2 伊達政宗を祀った仙台市中心部の南西、経ヶ峯にある豪華絢爛な御廟 b の名称で最も適切なものはどれか、次の①～④から選びなさい。(2点)

- ① 感仙殿 ② 瑞鳳殿 ③ 善応殿 ④ 大極殿 9

問 3 下線部 **c** について、仙台の定番人気グルメに入っていないものはどれか、次の①～④から選びなさい。(2点)

- ① 牛タン焼き ② 笹かまぼこ ③ ずんだ餅 ④ 治部煮 10

問 4 「仙台の奥座敷」と呼ばれ、本年 5 月に G7 サミット財務大臣・中央銀行総裁会議が開催された温泉はどれか、次の①～④から選びなさい。(3点)

- ① 秋保温泉 ② 作並温泉 ③ 遠刈田温泉 ④ 鳴子温泉 11

4



栃木県の北西部にある日光市は、明治から昭和初期にかけて外国人の避暑地として賑わったところである。

東京の下町 a 駅から東武鉄道の特急「スペーシアけごん」が東武日光駅までを結んでいる。1999 年に「日光の社寺」として世界遺産に登録された b は徳川家康公の霊廟として創建されたものである。境内では陽明門をはじめ、絢爛豪華な彫刻や彩色の建築装飾に目を奪われる。

日光市街から 48 か所もの急カーブがあることから「 c 」と名付けられた観光道路を上ると、周囲 25 km、およそ 2 万年前に d の噴火による溶岩で溪谷がせきとめられて出来た中禅寺湖がある。

問 1 空欄 a は東京都台東区に位置し、近くには「雷門」などの観光スポットがあり、特急「スペーシア」が発着する東武鉄道の始発終着駅名である。最も適切なものはどれか、次の①～④から選びなさい。 (2 点)

- ① 浅草 ② 上野 ③ 押上 ④ 北千住

12

問 2 空欄 b に入る語句として、最も適切なものはどれか、次の①～④から選びなさい。 (2 点)

- ① 大谷寺 ② 日光山輪王寺 ③ 日光東照宮 ④ 二荒山神社

13

問 3 空欄 c の日光市街と奥日光とを結ぶ観光道路は、下り専用と上り専用の二つの坂を合計すると 48 か所もの急カーブがあることから名づけられた。この観光道路の名称で最も適切なものはどれか、次の①～④から選びなさい。 (2 点)

- ① いろは坂 ② 四十八坂 ③ 椎坂峠 ④ 地獄坂

14

問 4 奥日光の入り口に位置する中禅寺湖は、周囲 25 km、最大水深 163m で、およそ 2 万年前に d の噴火による溶岩で溪谷がせきとめられ、原形ができたといわれている。空欄 d に入る語句として、最も適切なものはどれか、次の①～④から選びなさい。 (3 点)

- ① 鬼怒沼山 ② 白根山 ③ 男体山 ④ 女峰山

15

5



東京は 1603 年に徳川家康がこの地に幕府を開いた江戸時代から発展し続け、現在では世界有数の大都市になっている。

2012 年に復元された日本で最大級の煉瓦建築である a 東京駅、634m と高さ世界一の自立式電波塔 b スカイツリー など国内外から多くの旅行者が訪れている。

太平洋上にある伊豆諸島などの火山島群や c 小笠原諸島 も東京都に属している。

小笠原諸島は、島のほぼ全域が小笠原国立公園に指定され、世界自然遺産にも登録されている。

問 1 下線部 a の 1914 年に創建された東京駅丸の内駅舎は、1945 年の戦災により南北のドームと屋根・内装を焼失した。戦後、3 階部分を取り除き 2 階建て駅舎に復興していたが、2012 年 10 月に約 100 年前の姿に復元された。

この東京駅丸の内駅舎や日本銀行本店などを設計した者は誰か、次の①～④から選びなさい。

(3 点)

- ① ジョサイア・コンドル ② 辰野金吾 ③ フランク・ロイド・ライト ④ 本野精吾

16

問 2 下線部 b にあるスカイツリータウンには、「東京諸島」の海をテーマに、小笠原の海を再現した東京大水槽がある水族館があるが、この水族館の名称で最も適切なものはどれか、次の①～④から選びなさい。

(2 点)

- ① サンシャイン水族館 ② スカイツリー水族館 ③ すみだ水族館 ④ ソラマチ水族館

17

問 3 下線部 c の小笠原諸島へは、東京港竹芝客船ターミナルと小笠原の二見港とを小笠原海運の「おがさわら丸」が結んでいる。小笠原諸島で最も人口が多く、二見港のある島はどれか、次の①～④から選びなさい。

(2 点)

- ① 兄島 ② 弟島 ③ 父島 ④ 母島

18

6



「昇龍道」は国内にある「広域観光周遊ルート」のひとつで、日本列島の「まん中」にある愛知県・岐阜県・富山県・石川県を南から北へと縦断する新しい旅の観光ルートである。

「昇龍道」には 6 つのネットワークルートがあり、その中の「ドラゴン・ルート」は、能登半島を頭とする龍がこのエリア最大の都市の名古屋から天に昇っていく様子に見立てた昇龍道の象徴的なルートである。

「中部国際空港～名古屋～a 郡上八幡～下呂温泉～b 高山～富山～c 高岡～d 金沢～和倉温泉～e 輪島～小松空港」等は「ドラゴン・ルート」の代表的な観光ルートとなっている。

問 1 下線部 a に関連して、「郡上八幡」は a 上流の名水百選第 1 号宗祇水や郡上おどりがあある江戸時代を感じることでできる奥美濃の城下町である。

空欄 a に入る語句として、最も適切なものはどれか、次の①～④から選びなさい。 (3 点)

- ① 長良川 ② 鈴鹿川 ③ 黒部川 ④ 九頭竜川

19

問 2 下線部 b に関連して、「高山の古い町並」では、情緒豊かな雰囲気を残す江戸時代の町屋を散策することができる。

「高山」に所在しない観光地（観光施設）はどれか、次の①～④から選びなさい。 (3 点)

- ① 合掌造り民家園 ② 吉島家住宅 ③ 日下部民藝館 ④ 宮川朝市

20

問 3 下線部 c に関連して、高岡市内にある日本の白砂青松・渚百選に選ばれた c からは、富山湾越しに 3000m 級の立山連峰を望むことができる。

空欄 c に入る語句として、最も適切なものはどれか、次の①～④から選びなさい。 (3 点)

- ① 越前海岸 ② 雨晴海岸 ③ 気比の松原 ④ 虹の松原

21

問 4 下線部 d に関連して、金沢駅から和倉温泉までを下記のルートで観光した場合、次の空欄 に入る語句として、最も適切なものはどれか、次の①～④から選びなさい。(3 点)

<観光ルート>

金沢駅～千里浜なぎさドライブウエー～巖門～～禄剛崎灯台～見附島(軍艦島)～穴水～和倉温泉

- ① 東尋坊 ② 兼六園 ③ 白米千枚田 ④ 永平寺

問 5 下線部 e に関連して、石川県輪島の「朝市」には多くの観光客が訪れる。日本各地の朝市と其の所在する都道府県にある観光地等の組み合わせとして、誤っているものはどれか、次の①～④から選びなさい。(3 点)

- ① あつみ温泉朝市 - 中尊寺 ② 勝浦朝市 - 犬吠埼灯台
③ 函館朝市 - トラピスチヌ修道院 ④ 呼子の朝市 - 吉野ヶ里遺跡

7



本年 5 月に開催された「伊勢・志摩サミット」は、三重県 a 志摩半島南部の に浮かぶ景勝地の賢島で開催された。伊勢・志摩は、リアス式海岸と大小さまざまな島々や 20 年に 1 度、式年遷宮の行われる伊勢神宮などがあり、日本の美しい自然と豊かな文化、伝統を一度に味わえる観光地である。


問 1 下線部 a に関連して、日本各地の半島に所在する観光地等の組み合わせで誤っているものはどれか、次の①～④から選びなさい。(3 点)

- ① 牡鹿半島 - 金華山 ② 三浦半島 - 御前崎
③ 伊豆半島 - 石廊崎 ④ 渥美半島 - 伊良湖岬

問 2 空欄 に入る語句として最も適切なものはどれか、次の①～④から選びなさい。(3 点)

- ① 英虞湾 ② 伊勢湾 ③ 三河湾 ④ 的矢湾

8



「天橋立」は、a 京都府北部、日本海の宮津湾にあり、幅は約 20m～170m、全長約 km の砂嘴でできた砂浜に大小約 8000 本もの松が生い茂っている珍しい地形で、その形が天に架かる橋のように見えることから「天橋立」と名がつけられた。

問 1 下線部 a に関連して、京都府に所在しない温泉、観光地、観光施設等の組み合わせはどれか、次の①～④から選びなさい。 (3 点)

- ① 伊根の舟屋 — 経ヶ岬灯台 ② 貴船神社 — 鞍馬温泉
 ③ 城崎温泉 — 玄武洞 ④ 保津峡 — 嵯峨野トロッコ列車

26

問 2 空欄 b に入る数字として、最も適切なものはどれか、次の①～④から選びなさい。 (3 点)

- ① 1 km ② 3 km ③ 10 km ④ 30 km

27

9



2007 年に「石見銀山遺跡とその文化的景観」として世界文化遺産に登録された a 石見銀山では、16 世紀から 17 世紀に大量の銀が採掘された。石見銀山はその功績や町並みだけでなく採掘当時から周囲の自然に配慮した環境保全が成されていた。石見銀山の港町として栄えた b 温泉は、1300 年以上の歴史があり静かで落ち着いたある温泉街である。

問 1 下線部 a の石見銀山と同一の県に所在しない下記の観光施設として、最も適切なものはどれか、次の①～④から選びなさい。 (3 点)

- ① 足立美術館 ② 水木しげる記念館
 ③ 森鷗外旧宅・森鷗外記念館 ④ 小泉八雲記念館

28

問 2 下線部 a に関連して、日本各地に存在した鉱山と県名の組み合わせとして誤っているものはどれか、次の①～④から選びなさい。 (3 点)

- ① 足尾銅山 — 群馬県 ② 生野銀山 — 兵庫県
 ③ 佐渡金山 — 新潟県 ④ 別子銅山 — 愛媛県

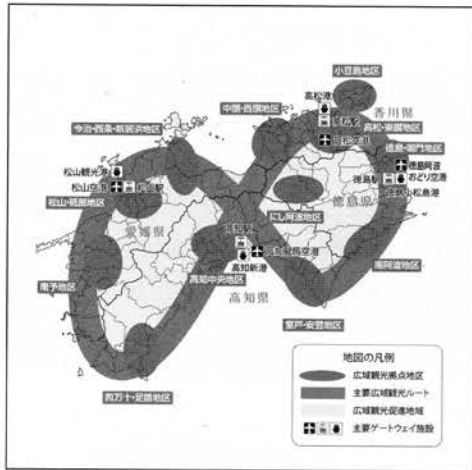
29

問 3 空欄 b に入る語句として、最も適切なものはどれか、次の①～④から選びなさい。 (3 点)

- ① 湯田 ② 玉造 ③ 皆生 ④ 温泉津

30

10



a 四国4県(徳島県、香川県、愛媛県、高知県)は、「スピリチュアルな島～四国遍路～」として広域観光周遊ルートに選ばれた。

b 「四国遍路とお接待の心の文化」「日本の原風景が残る未知なる観光地」「1200年の歴史や文化に触れる旅」をコンセプトに外国人旅行者に満足してもらえる観光地を目指している。

問1 下線部 a に関連して、各県の代表的な河川、観光施設等の記述として誤っているものはどれか、次の①～④から選びなさい。(3点)

- ① 徳島県を西から東に流れる仁淀川は、「四国三郎」とも呼ばれる四国最大の大河である。
- ② 香川県高松市にある栗林公園は、紫雲山を借景に池と築山を配した庭園である。
- ③ 愛媛県宇和島市にある天赦園は、池泉廻遊式の大名庭園である。
- ④ 高知県にある四万十川は、「日本最後の清流」として知られ、増水すると沈む、沈下橋を見ることができる。

31

問2 下線部 a に関連して、各県とお祭り・イベントと名物料理の組み合わせで正しいものはどれか、次の①～④から選びなさい。(3点)

- | 県名 | お祭り・イベント | 名物料理 |
|-------|----------|--------|
| ① 徳島県 | 阿波おどり | さぬきうどん |
| ② 香川県 | 琴弾八幡宮大祭 | ふくめん |
| ③ 愛媛県 | 新居浜太鼓祭り | 祖谷そば |
| ④ 高知県 | よさこい祭り | 皿鉢料理 |

32

問3 下線部 b に関連して、「四国八十八ヶ所めぐり」の以下の各寺院についての記述で、に当てはまる語句の組み合わせとして正しいものはどれか、次の①～④から選びなさい。(3点)

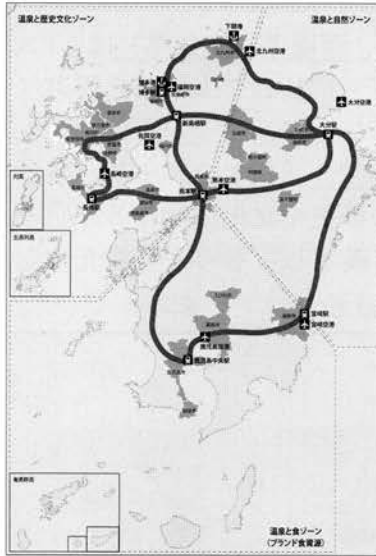
- ・ 徳島県にある霊山寺は、四国八十八ヶ所の第一番札所で、として知られる。
- ・ 香川県にある善通寺は、四国八十八ヶ所の第七十五番札所で、お大師様のとして、京都府の東寺、和歌山県の高野山と並ぶ弘法大師三大霊跡のひとつである。
- ・ 愛媛県にある石手寺は、四国八十八ヶ所の第五十一番札所で、日本最古といわれるの近くにある。
- ・ 高知県にある竹林寺は、四国八十八ヶ所の第三十一番札所で、にありその頂上からは高知市街と浦戸湾が一望できる位置にある。

(ア) (イ) (ウ) (エ)

- ① 発願の寺-----御誕生所-----道後温泉-----石鎚山
- ② 御誕生所-----発願の寺-----鈍川温泉-----五台山
- ③ 発願の寺-----御誕生所-----道後温泉-----五台山
- ④ 御誕生所-----発願の寺-----鈍川温泉-----石鎚山

33

11



外国人旅行者向けに選定された「広域観光周遊ルート」の中の「温泉アイランド九州」は、日本有数の温泉源泉数と湧出量を誇る温泉、その温泉を育むダイナミックな自然、古くから海外との窓口だった歴史が育んだ豊かな食文化、世界文化遺産をはじめとする歴史・文化資源など、九州 7 県の多様な魅力を楽しむ周遊ルートである。主な広域観光拠点地区（福岡、長崎、阿蘇・黒川、宮崎、鹿児島等）に韓国、中華圏、欧州からの個人旅行者の拡大を図ることが目的である。

問 1 広域観光拠点のひとつであり、江戸時代は立花氏の城下町として発展し、どんこ船で水郷めぐりのできる都市として最も適切なものはどれか、次の①～④から選びなさい。

(2 点)

- ① 柳川市 ② 潮来市 ③ 小城市 ④ 飫肥市

34

問 2 広域観光拠点のひとつであり、明治の頃に外国人の避暑地として開かれた国際的な観光地で、古湯・新湯・小地獄の 3 つに分かれ、湯けむりが漂う街並みの温泉街として最も適切なものはどれか、次の①～④から選びなさい。

(2 点)

- ① 武雄温泉 ② 由布院温泉 ③ 平戸温泉 ④ 雲仙温泉

35

問 3 広域観光拠点の熊本地区の近くにあり、日本最大級の石造りアーチ水路橋で、国の重要文化財に指定されているものとして最も適切なものはどれか、次の①～④から選びなさい。

(3 点)

- ① 眼鏡橋 ② 錦帯橋 ③ 西田橋 ④ 通潤橋

36

問 4 宮崎県にある観光地等に関する次の文章について誤っているものはどれか、次の①～④から選びなさい。

(3 点)

- ① 高千穂峡には、日本の滝百選に指定されている「真名井の滝」がある。
 ② えびの高原では、「御崎馬」と呼ばれる野生馬が静かに草を食んでいる姿を見ることができる。
 ③ 西都市には、日本全国有数の大古墳群である「西都原古墳群」がある。
 ④ 青島には、「鬼の洗濯板」と呼ばれている波状岩がある。

37

問 5 広域観光拠点の鹿児島地区に関連して、下記のルートで観光した場合、**a**に入る語句として最も適切なものはどれか、次の①～④から選びなさい。

(3 点)

<観光ルート>

鹿児島中央駅～仙巖園（磯庭園）～指宿温泉（砂蒸し温泉体験）～**a**～池田湖
 ～知覧武家屋敷～鹿児島中央駅

- ① 長崎鼻 ② 桜島 ③ 佐多岬 ④ 霧島神宮

38