

日本歴史—1 (解答番号 1 ~ 10) 平成 25 年度

各問題に対する解答は配付したマークシートの解答欄にマークすること。例えば 20 と表示のある問題に対して⑤と解答する場合は、解答番号 20 の解答欄の⑤にマークすること。

1 次の設問(1)~(5)を読んで、正解をそれぞれの語群①~⑤から一つ選び、また地図上の①~⑩からその位置を一つ選んでマークしなさい。(各 2 点×10=20 点)

(1) () は、1465 年に京都大谷の本願寺が比叡山衆徒の襲撃を受けると、近江国を経て、1471 年に吉崎に移住し、ここを拠点に平易な消息文である「御文(おふみ)」を使って布教活動を行い、本願寺の教勢を拡大した。() にあてはまるのは誰か。吉崎が位置するのは地図上のどこにあたるか。

- ①法然 ②親鸞 ③蓮如 ④玄恵 ⑤一遍
- 人名 1
地図 2

(2) 陸奥国府と鎮守府が置かれた() は、724 年には築城され、しだいに整備、拡張された。対蝦夷の軍事施設であるとともに律令国家の東北経営の中心政庁として機能した。() にあてはまる城はどれか。その城が位置するのは地図上のどこにあたるか。

- ①秋田城 ②徳丹城 ③志波城 ④多賀城 ⑤胆沢城
- 城名 3
地図 4

(3) イタリア人のイエズス会宣教師が、1708 年にこの地に潜入した。捕えられて江戸に送られ、5 年後に亡くなった。新井白石が尋問し、白石はそこで得た知識をもとに、『西洋紀聞』などを著した。この宣教師は次の中の誰か。また、この地とは地図上のどこにあたるか。

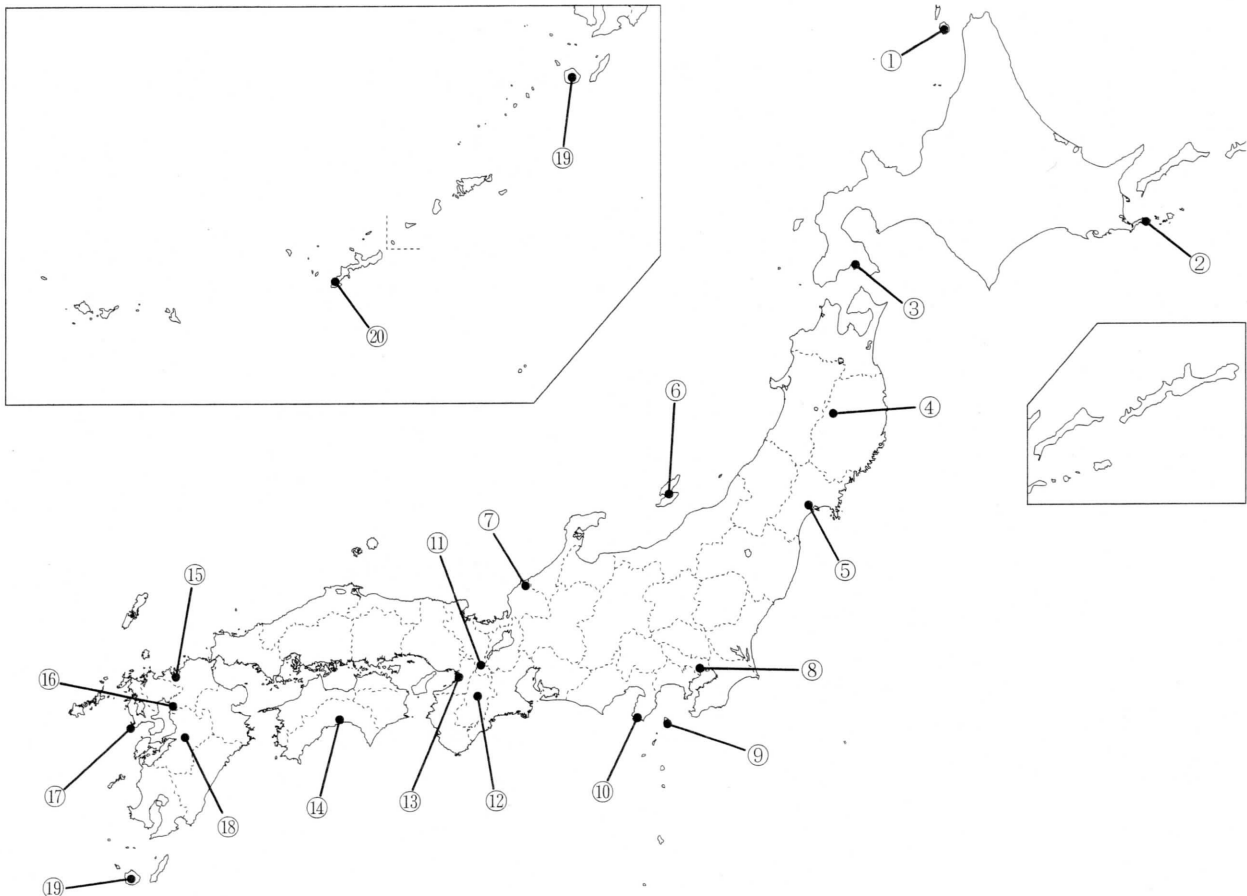
- ①ヴァリニャーニ ②シーボルト ③シドッチ ④フルベッキ ⑤フロイス
- 人名 5
地図 6

(4) ロシアの使節であるラクスマンは、1792 年にこの地に現れた。使節は漂流民を伴い通商を求めた。幕府は、漂流民を引き取ったが通商は拒否した。この時に送還された漂流民は次の中の誰か。また、この地とは地図上のどこにあたるか。

- ①大黒屋光太夫 ②高田屋嘉兵衛 ③茶屋四郎次郎 ④淀屋辰五郎 ⑤饅頭屋宗二
- 人名 7
地図 8

(5) かつてこの地にあった炭鉱。1873 年に官営となり、1888 年に払下げ許可が出て三井に払い下げられた。1960 年には激しい労働争議が起こったが、1997 年に閉山となった。この炭鉱は次の中のどれか。また、この地とは地図上のどこにあたるか。

- ①油戸炭鉱 ②宇部炭鉱 ③高島炭鉱 ④幌内炭鉱 ⑤三池炭鉱
- 炭鉱名 9
地図 10



2 次の設問(1)~(5)を読んで、正解をそれぞれの語群①~⑤から一つ選んで、解答欄にマークしなさい。

(各 3 点×5=15 点)

(1) 奈良時代の歌人で、貧窮問答歌の作者。702 年遣唐使の一員として入唐。帰国後、筑前守赴任中に大宰帥の大伴旅人と親交があり、多くの作品を生んだ。この人物は誰か。

- ①大伴家持 ②犬上御田歙 ③柿本人麻呂 ④山部赤人 ⑤山上憶良 11

(2) 曹洞宗の開祖。13 歳で出家して比叡山へ入り、その後栄西に禅を学び、1223 年に入宋した。権威を嫌い、越前国に永平寺を建立した。この人物は誰か。

- ①西行 ②慈円 ③道元 ④高弁 ⑤日蓮 12

(3) 平安後期の武士。平正盛の長男。鳥羽院政期に山陽・南海の海賊鎮圧などに活躍し、昇殿も許されて平家繁栄の基盤をつくった。この人物は誰か。

- ①平忠盛 ②平将門 ③平忠常 ④平忠正 ⑤平重盛 13

(4) 1878 年に来日したアメリカ人。東京大学で哲学などを講義する一方、日本美術を高く評価した。岡倉天心と共に東京美術学校の創設に尽力した。この人物は誰か。

- ①キヨソネ ②ケーベル ③モース ④フェノロサ ⑤フォンタネージ 14

(5) 東洋経済新報社の記者の時代に「代議政治の論理」などを発表、後に同社の社長、第二次世界大戦後は 1956 年 12 月に首相になった（翌年 2 月に病気のため辞任）人物は誰か。

- ①石橋湛山 ②岸信介 ③幣原喜重郎 ④鳩山一郎 ⑤吉田茂 15

3 次の設問(1)~(5)を読んで、正解をそれぞれの語群①~⑤から一つ選んで、解答欄にマークしなさい。

(各 3 点×5=15 点)

(1) 源平の争乱から後醍醐天皇の京都帰還までの約 150 年間の歴史を公家の立場から記した、南北朝時代に書かれた歴史書はどれか。

- ①増鏡 ②水鏡 ③愚管抄 ④吾妻鏡 ⑤保元物語 16

(2) 源信が 985 年に著した、地獄と極楽を対比させ、極楽往生のために念仏を勧めた作品はどれか。

- ①正法眼蔵 ②禁秘抄 ③方丈記 ④往生要集 ⑤拾遺往生伝 17

(3) 作者と作品との組み合わせで誤っているものはどれか。

- ①井原西鶴『世間胸算用』 ②河竹黙阿弥『菅原伝授手習鑑』 ③近松半二『本朝廿四孝』
④近松門左衛門『曾根崎心中』 ⑤鶴屋南北（四世）『東海道四谷怪談』 18

(4) 作者と作品との組み合わせで誤っているものはどれか。

- ①賀茂真淵『国意考』 ②北村季吟『源氏物語湖月抄』 ③契沖『万葉代匠記』
④関孝和『発微算法』 ⑤塙保己一『塵劫記』 19

(5) 作者と作品との組み合わせで誤っているものはどれか。

- ①国木田独步『病牀六尺』 ②田山花袋『田舎教師』 ③長塚節『土』
④樋口一葉『たけくらべ』 ⑤二葉亭四迷『浮雲』 20

4 次の設問(1)~(5)を読んで、正解をそれぞれの語群①~⑤から一つ選んで、解答欄にマークしなさい。

(各 3 点×5=15 点)

(1) 執権政治の大きな特徴として、源頼朝の死後に執権北条氏によって進められた、有力 () による合議制の政治体制があげられる。() にあてはまる身分・職制はどれか。

- ①地頭 ②守護 ③管領 ④受領 ⑤御家人 21

(2) 594 年には「仏教興隆の詔」が出され、仏教が政治の基本に据えられた。大王家や諸豪族は、古墳にかわってその権威を示し、氏の政治的結集の場とするために、きそって氏寺を建立した。蘇我馬子が発願し、朝廷の保護を受け、588 年に建立が始まった飛鳥の飛鳥寺、厩戸王の発願によると伝えられ、593 年に建立が始まった難波の () や、斑鳩の法隆寺などがその代表的な例である。() にあてはまる寺院はどれか。

- ①矢田寺 ②当麻寺 ③山田寺 ④四天王寺 ⑤橘寺 22

(3) 勘合貿易とは、割符である勘合を使用して行われた日本と () との貿易。貿易は室町幕府が主催し、実際の経営は守護大名や寺社・商人が関与した。() にあてはまる国はどれか。

- ①元 ②清 ③明 ④宋 ⑤高麗 23

(4) 江戸時代の将軍とその在任中の出来事との組み合わせで誤っているものはどれか。

- ①徳川綱吉—赤穂浪士の吉良邸への討ち入り ②徳川秀忠—禁中並公家諸法度の発布 24
 ③徳川家斉—慶安の変 (由井(比)正雪の乱) ④徳川家茂—日米修好通商条約の調印
 ⑤徳川家慶—蛮社の獄により渡辺崋山ら処罰

(5) 1874 年に政府に提出された民撰議院設立の建白書は、提出翌日の新聞に掲載された。その新聞とはどれか。

- ①『国民新聞』 ②『朝野新聞』 ③『郵便報知新聞』 ④『日新真事誌』 ⑤『万朝報』 25

5 次の設問(1)~(5)を読んで、正解をそれぞれの語群①~⑤から一つ選んで、解答欄にマークしなさい。

(各 3 点×5=15 点)

(1) 戦国時代には、商品経済の発展によって城下町だけでなく、門前町も繁栄した。門前町としては伊勢神宮の宇治・山田、信濃善光寺の長野、延暦寺の門前町で琵琶湖岸の重要な港町でもあった () などが代表的である。() にあてはまる地名はどれか。

- ①長浜 ②彦根 ③近江八幡 ④信楽 ⑤坂本 26

(2) () は、関東管領上杉憲実が 15 世紀の永享年間に快元を校長として再興され、以後上杉氏、北条氏の保護を受けた。禅僧によって管理され、儒学研究の場として関東の学問の拠点となり、戦国時代にはザビエルにより坂東の大学としてヨーロッパに紹介された。() にあてはまる学校はどれか。

- ①足利学校 ②金沢文庫 ③昌平坂学問所 ④開智学校 ⑤閑谷学校 27

(3) 江戸時代に物資を輸送した廻船の中で、菱垣廻船が就航していたのはどれか。

- ①青森と江戸 ②大坂と江戸 ③酒田と青森 ④下関と大坂 ⑤長崎と鹿児島 28

(4) 江戸時代には各藩において藩校が設立された。会津藩の藩校は次の中のどれか。


- ①弘道館 ②時習館 ③日新館 ④明倫館 ⑤養賢堂 29

(5) 次の事項と年の組み合わせで誤っているのはどれか。


- ①シャープを団長とする使節団が来日して税制改革を勧告 (シャープ勧告) —1945 年 30
 ②金融緊急措置令の公布—1946 年
 ③過度経済力集中排除法の制定—1947 年
 ④GHQ (連合国軍最高司令官総司令部) により第 2 次吉田茂内閣に経済安定九原則の実行を指令—1948 年
 ⑤1 ドル=360 円の単一為替レートを設定—1949 年

6 次の(1)~(5)の絵画や写真について、各問いに答えなさい。(各 2 点×10=20 点)

(1)



(2)



(3)



(4)



(5)



(1) この絵画の名称を選びなさい。また所蔵している社寺を選びなさい。

名称：①阿弥陀浄土図 ②釈迦説法図繡帳 ③絵因果経 ④当麻曼荼羅図 ⑤天寿国繡帳 名称
社寺：①中宮寺 ②当麻寺 ③法隆寺 ④飛鳥寺 ⑤矢田寺 社寺

(2) この像の名称を選びなさい。また所蔵している社寺を選びなさい。

名称：①薬師如来像 ②盧舎那仏像 ③鑑真和上像 ④梵天像 ⑤塔本塑像 名称
社寺：①薬師寺 ②東大寺 ③唐招提寺 ④興福寺 ⑤元興寺 社寺

(3) 庭園の名称を選びなさい。また所在する社寺を選びなさい。

名称：①依水園 ②大仙院庭園 ③玄宮園 ④仙巖園 ⑤養翠園 名称
社寺：①龍安寺 ②西芳寺 ③天龍寺 ④大徳寺 ⑤仁和寺 社寺

(4) この写真の建築は伏見城の遺構と伝えられ、桃山文化を代表するものの一つである。建築の名称と所在する都道府県名を選びなさい。

名称：①伊勢神宮内宮正殿 ②醍醐寺三宝院表書院 ③都久夫須麻神社本殿 ④西本願寺鴻の間 ⑤妙喜庵待庵 名称
所在地：①兵庫県 ②三重県 ③京都府 ④滋賀県 ⑤大阪府 所在地

(5) この絵画の題名を選びなさい。またその作者を選びなさい。

題名：①立てる像 ②天平の面影 ③読書 ④悲母観音 ⑤麗子微笑 題名
作者：①狩野芳崖 ②岸田劉生 ③黒田清輝 ④藤島武二 ⑤松本竣介 作者